


**РЕКОМЕНДАЦИИ ДЛЯ РОДИТЕЛЕЙ СТАРШЕЙ ГРУППЫ ПО  
ФОРМИРОВАНИЮ ЭЛЕМЕНТАРНЫХ МАТЕМАТИЧЕСКИХ  
ПРЕДСТАВЛЕНИЙ. ЛЕКСИЧЕСКАЯ ТЕМА: «ПЕРЕЛЕТНЫЕ ПТИЦЫ».**

**1 ЗАДАНИЕ**

**СОСЧИТАЙ И ЗАПИШИ СООТВЕТСТВУЮЩУЮ ЦИФРУ.**




○	○	○	○	○

**2 ЗАДАНИЕ**

**Найди перелетных птиц**

1. Обведи жаворонка, грача, лебедя и утку желтым цветом.
2. Обведи журавля и кукушку красным цветом.
3. Составь пример и реши его.

Найди и обведи перелетных птиц.







$$\text{Red Circle} + \text{Yellow Circle} =$$

3 ЗАДАНИЕ





4 ЗАДАНИЕ

**39** Нарисуй справа столько же палочек, сколько птиц слева.

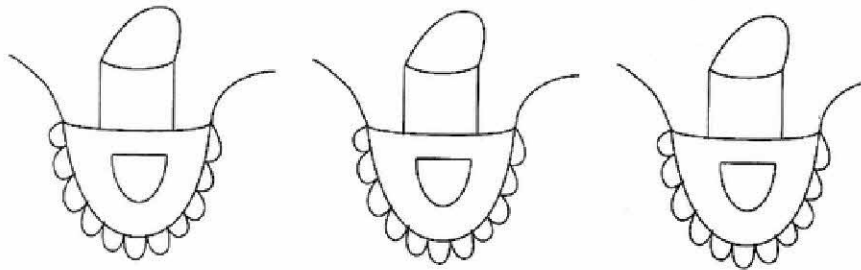


### 5 ЗАДАНИЕ

На какой веточке птичек меньше? На какой веточке листочков меньше?



Раскрась фартучки по-разному.



### 6 ЗАДАНИЕ

## Посчитайте птиц

